



حساب ذهني

- مَا هُوَ الْعَدَدُ الَّذِي يَسْبِقُ مُبَاشَرَةً 154؟
- مَا هُوَ الْعَدَدُ الَّذِي يَلِي مُبَاشَرَةً 176؟
- مَا هُوَ الْعَدَدُ الْمَحْضُورُ بَيْنَ 189 و 191؟
- مَا هُوَ عَدَدُ الْعَشْرَاتِ فِي 142؟
- مَا هُوَ نِصْفُ الْعَدَدِ 120؟
- مَا هُوَ ضِعْفُ الْعَدَدِ 97؟

مسألة

انطلق الأطفال في رحلة إلى الغابة، وعند وصولهم، قسمهم المؤطرون إلى مجموعتين لاستكشاف المكان. في المجموعة الأولى 37 طفلًا، وفي المجموعة الثانية 29 فتاة، أما عدد المؤطرين فيفوق عدد الفتيات بـ 18.

1. ♦ 1. أحسب عدد المؤطرين والمرافقين في الرحلة.

.....
.....



2 ♦ 1. أَحْسِبْ عَدَدَ الْمُشَارِكِينَ كُلِّيًّا فِي الرِّحْلَةِ.

.....
.....

أَحْضَرَ الْمُؤَطَّرُونَ 125 قِنِينَةَ مَاءٍ لِلْمُشَارِكِينَ، وَعَدَدًا مِنْ الشَّطَائِرِ يَقْلُ عَنْ عَدَدِ قِنِينَاتِ الْمَاءِ بِ 24.

1 ♦ 2. أَحْسِبْ عَدَدَ الشَّطَائِرِ.

.....
.....

2 ♦ 2. أَرْتَبْ أَعْدَادَ الْعَمَلِيَّةِ تَنَازُلِيًّا.







.....

بَعْدَ اسْتِكْشَافِ الْغَابَةِ، عَادَتْ بَعْضُ الْفَتَيَاتِ وَبَعْضُ الْأَطْفَالِ إِلَى الْحَافِلَةِ وَكَانَ عَدْدُهُمْ 10 شَخْصًا.

1 ♦ 3. أَحْسِبْ عَدَدَ الْمُشَارِكِينَ الْبَاقِينَ فِي الْغَابَةِ.

.....
.....

عِنْدَ الرُّجُوعِ، قَامَ الْمُؤَطَّرُونَ بِمُكَافَأَةِ بَعْضِ الْأَطْفَالِ عَلَى جِدِّيَّتِهِمْ فِي الرِّحْلَةِ. يُبَيِّنُ الْجَدْوَلُ مَا تَحْصَلَ عَلَيْهِ بَعْضُهُمْ:

سَامِي	هَشَام	نَادِر
		    
175 مي	190 مي مي

1. ♦ 4. أَحْسَبُ مَبْلَغَ نَادِرٍ وَأَعْمُرُ الْفَرَاغَ فِي الْجَدْوَلِ.
2. ♦ 4. أَكْمَلُ تَمَثِيلَ مَبْلَغِ هَشَامِ.
3. ♦ 4. أَمَثُلُ مَبْلَغَ سَامِي بِأَقْلٍ عَدَدٍ مُمَكِّنٍ مِنَ الْقِطْعِ.
- إِشْتَرَى نَادِرٌ لُعْبَةً بِ 50 مِي وَاشْتَرَى هَشَامٌ مَجَلَّةً بِ 70 مِي.

1. ♦ 5. أَحْسَبُ الْمَبْلَغَ الَّذِي بَقِيَ لِنَادِرِ.

.....

.....

2. ♦ 5. أَحْسَبُ الْمَبْلَغَ الَّذِي بَقِيَ لِهَشَامِ.

.....

.....

أَمَّا سَامِي فَاشْتَرَى قِطْعَةً حَلْوَى وَبَقِيَ لَدَيْهِ 100 مِي.

♦ إِطْرَحْ سُؤْالًا مُنَاسِبًا لِلْوَضْعِيَّةِ وَأَجِبْ عَلَيْهِ.

.....السُّؤَالُ

.....الإِجَابَةُ