



السند 1 :

عَلِمَتْ فِرْدَوْسُ بِمَرَضِ صَدِيقَتِهَا عَبِيرَ فَذَهَبَتْ لِتَزُورَهَا وَأَخَذَتْ مَعَهَا بَاقَةَ جَمِيلَةً
مِنَ الْوُرُودِ الْمَلَوْنَةِ.



التعليمة 1 : اكتب في كل لافتة عدد الأزهار.

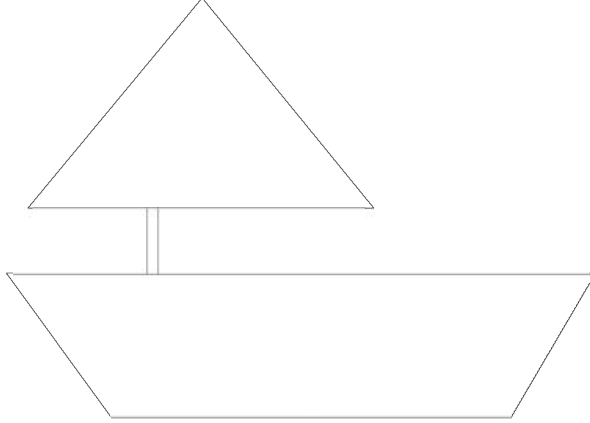
1 مع

التعليمة 2 : اكون اتحاد المجموعتين وأعبر عنه بكتابة جمعيّة.

1 مع

السند 2 :

للتسلية، رسمت الصديقتان على ورقة كبيرة قاربًا بخطوط وأشكال هندسية مختلفة.



التعليمة: أكمل الصورة برسم خطوط مستقيمة على القارب وخطوط منكسرة على شراعه وأمواج على شكل خطوط منحنية تحته.

مع 4

السند 3 :

خلال الزيارة، أعجبت فردوس بمكتبة صديقتها عبيير. احتوت المكتبة على العديد من القصص: شمل الرف الأول 20 قصة والرف الثاني 32 قصة، أما عدد قصص الرف الثالث فيفوق عدد قصص الرف الثاني بـ 4 قصص.

التعليمة 1: أبحث عن عدد قصص الرف الثالث.

مع 1

مع 2

$$\begin{array}{r} . \quad . \\ + \\ . \quad . \\ \hline = . \quad . \end{array}$$

التَّعْلِيمَةُ 2 : أَرْتَبْ أَعْدَادَ الْقِصَصِ الْمَوْجُودَةِ بِالرُّفُوفِ الثَّلَاثَةِ تَرْتِيبًا تَنَازُلِيًّا.

. . .

التَّعْلِيمَةُ 3 : أَفَكِّكْ كُلَّ عَدَدٍ وَفَقًا لِلصِّيغَةِ الْقَانُونِيَّةِ.

مَع 2

=	. .
=	. .
=	. .

التَّعْلِيمَةُ 4 : أَحْسِبْ الْعَدَدَ الْجُمْلِيَّ لِلْقِصَصِ بِالرُّفُوفِ الثَّلَاثَةِ.

. . .

مَع 1

.....

	. .
+	. .
	. .
+	. .

+	. .

مَع 2

السند 4 :

في طريق العودة، اشترت فردوس قصة رأتها بمكتبة صديقتها.
أزج لها البائع القطع النقدية التالية :



التعليمة 1 : أحسب قيمة المبلغ المتبقي :

معد 3

مي

التعليمة 2 : أعيد تمثيل المبلغ بأقل عدد ممكن من القطع.

التعليمة 3 : هل يمكن لفردوس شراء أوراق بيضاء بـ 95 مي ؟

معد 5

..... أعلل إجابتي

التعليمة 4 : أمثل ثمن الأوراق البيضاء بالقطع النقدية المناسبة :

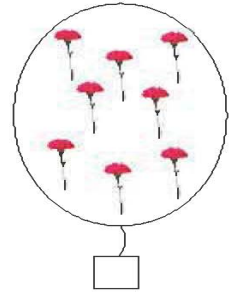
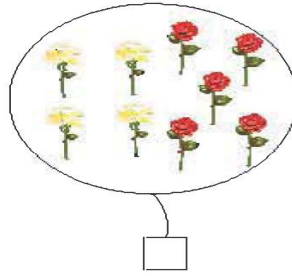
معد 3

الإصلاح



* السَّنْدُ 1 : التَّعْلِيمَةُ 1 : $9 > 8$
التَّعْلِيمَةُ 2 :

$$17 = 9 + 8$$



* السَّنْدُ 3 : التَّعْلِيمَةُ 1 : عَدُّ قِصَصِ الرُّفِّ
الثَّالِثِ : $36 = 4 + 32$

$$\begin{array}{r} 3 \quad 2 \\ + \quad 4 \\ \hline = 3 \quad 6 \end{array}$$

التَّعْلِيمَةُ 2 : أَرْتَّبْ أَعْدَادَ الْقِصَصِ الْمَوْجُودَةِ بِالرُّفُوفِ
الثَّلَاثَةِ تَرْتِيبًا تَنَازُلِيًّا $20 < 32 < 36$.

التَّعْلِيمَةُ 3 : أَفَكِّ كُلَّ عَدَدٍ وَفَقًا لِلصِّيغَةِ الْقَانُونِيَّةِ.

$$20 + 0 =$$

$$20$$

$$30 + 2 =$$

$$32$$

$$30 + 6 =$$

$$36$$

التَّعْلِيمَةُ 4 : اَلْعَدَدُ الْجُمْلِي لِلْقِصَصِ بِالرُّفُوفِ الثَّلَاثَةِ:

$$88 = 36 + 32 + 20$$

* السَّنَدُ 4 : التَّعْلِيمَةُ 1 : 70 مِي. التَّعْلِيمَةُ 2 :

التَّعْلِيمَةُ 3 : لَا يُمَكِّنُ لِفِرْدَوْسٍ شِرَاءً



الْأُورَاقِ الْبَيْضَاءِ لِأَنَّ 70 مِي أَقَلُّ مِنْ 95 مِي.

التَّعْلِيمَةُ 4 : تُقْبَلُ جَمِيعُ الْإِجَابَاتِ الصَّحِيحَةِ وَالْقِطْعِ

الَّتِي مَجْمُوعُ قِيَمَتِهَا 95 مِي.