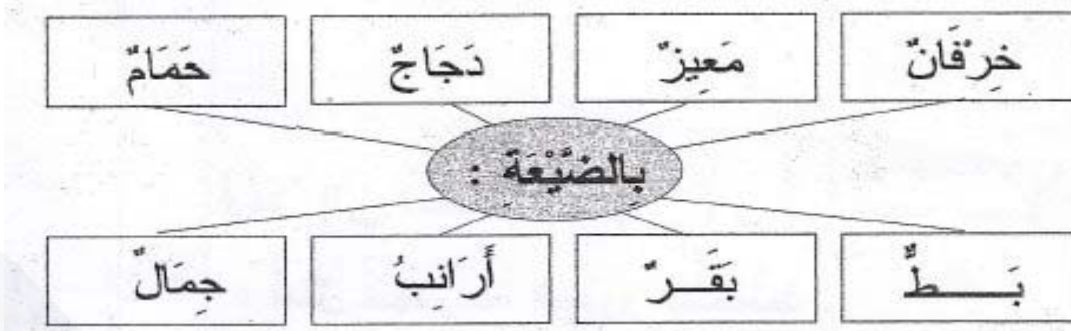


**السند 1**

هذه يسر تزور ضيعة عمها . . . ما أسعدها و هي تتعرّف إلى الحياة في الريف.



1-1/ أتعرف إلى حيوانات الضيعة و أشطب الخطأ.



مع 1

مع 2


1-2/ أضع (x) تحت صورة كل إنسان في المشهد.

مع 1

مع 2

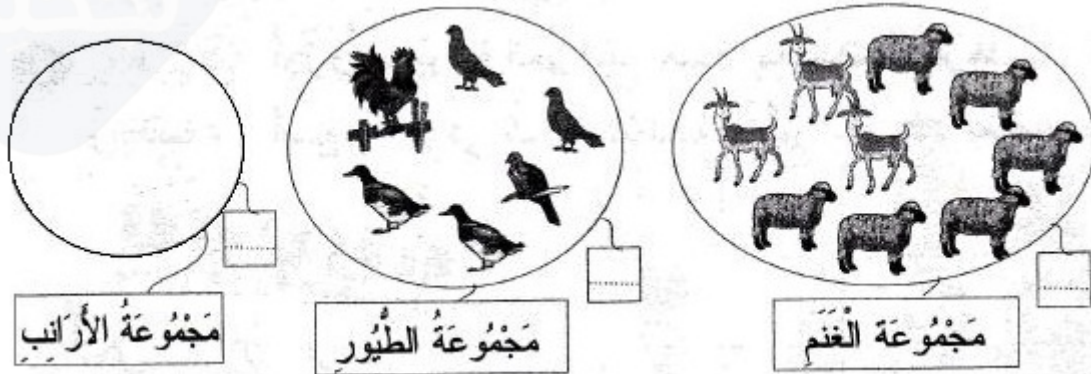
1-3 / ألون الجواب السليم:

مع 1



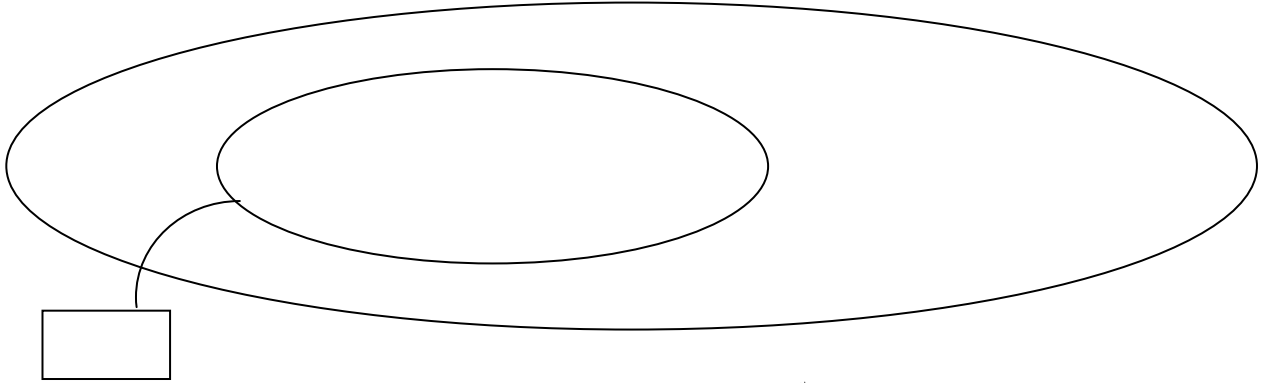
مع 4

هذه مخططات لبعض ما نراه في ضيعة عم يسر.



أرمز للخروف بـ  $\triangle$  و ارمز إلى المعزاة بـ  $\square$   
2-2/ أمّل تمثيل مجموعة الغنم بالمخطط .

2-3/ أجزئ المجموعة و أكتب كمّ كل مجموعة جزئية:



أرمز للحمامة بـ  $\circ$  وإلى البطة بـ  $\times$  و إلى الديك بـ  $\triangle$   
2-4/ أمثل مجموعة الطيور بمخطط .

2-5/ أجزأ المجموعة و أكتب كمّ كل مجموعة جزئية.

### جدول إسناد الأعداد

معيّار التميّز	معايير الحد الأدنى										مستويات التملك
	مع4		مع2ب			مع2أ			مع1		
مع5											انعدام التملك
0	0										0
2	0.5	0.25	1.5	1	0.5	1.5	1	0.5	0.5	0.25	التملك دون الأدنى
3	1	0.75	3	2.5	2	3	2.5	2	1	0.75	التملك الأدنى
4	1.5	1.25	4.5	4	3.5	4.5	4	3.5	1.5	1.25	التملك