

مارس 2013

تقييم مكتمليات التلاميذ
في نهاية الثلاثي الثاني

المادة : الرياضيات


الاسم واللقب: العدد: 20/


الصفحة


المسألة:

بمناسبة عيد الإضحى، صاحب زينة أباد إلى سوق الغنم لشراء كئش العيد. فتشاهد زينة هذه المجموعات من الخرفان.

التعليمة 1: أكتب في كل لافئة عدد عناصر كل مجموعة.







التعليمة 2: أرتب أعداد الخرفان وفقا للعلامة.

. < . < .

التعليمة 3: أحسب عدد الخرفان السوداء والمزقطة.

1 ط

2 ط

3 ط

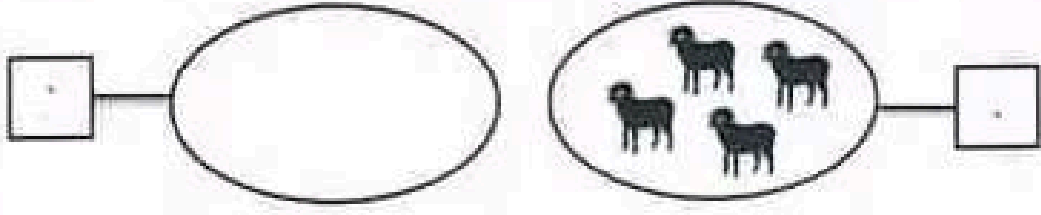
4 ط

11

1

نجاهني

٥ باغ صنّاجبُ الغنمِ كلَّ الحَرْفانِ السُّوداءِ وعلى قَدْرها حَرْفانًا مَرْقُطَةً.
التعليمة 4: أرسم عناصر الحرفان المَرْقُطَةَ التي باعها الفلاخ وأكثبُ عندها.



التعليمة 5: أكثبُ الحرفانِ السُّوداءِ والمَرْقُطَةَ التي باعها الفلاخ.

Blank lines for writing the answer to question 5.

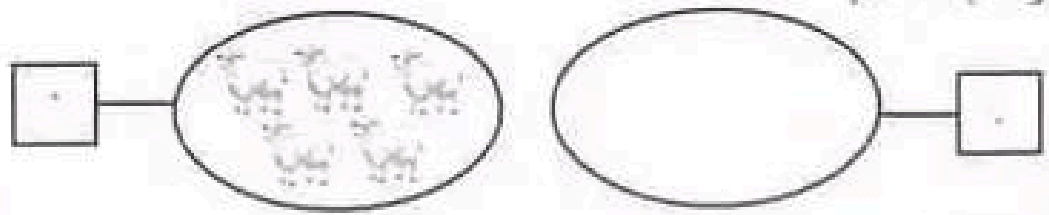
٥ باغ الفلاخ حَرْفانًا بَيْضاءَ عندها أَكثَرُ من عنْدِ الحرفانِ المَرْقُطَةَ ب 2.
التعليمة 6: أكثبُ عنْدِ الحرفانِ البَيْضاءِ التي باعها الفلاخ.

Blank lines for writing the answer to question 6.

التعليمة 7: أرثبُ أَعْدادَ العَطِيَّةِ وَفَما لِلعَلامَةِ.



التعليمة 8: أرسم عناصر مَجمُوعَةِ الحرفانِ البَيْضاءِ التي باعها الفلاخ وأكثبُ عندها.



- 1 عدد
- 1 عدد
- 2 عدد
- 1 عدد
- 2 عدد
- 1 عدد

التعليمة 9: اكتب العدد الذي يتبق ونيلي مباشرة كُن عدد من الأعداد
الثانية.



• بعدما شري زياد وأبوه الخبزوف رجعا إلى المنزل وأثناء الطريق وجد
زياد قطعا نقدية ملقاة على الأرض.

التعليمة 10: أكتب قيمة هذه القطع.

= (1) (1) (5) (5) مس

• طلب زياد من أبيه 6 من ليضيغها إلى المبلغ الذي عنده وشري بها علكة.
التعليمة 11: أمثل المبلغ 6 من يقطع نقدية.

• نازلة أبوه ما طلب فأصبح يملك هذه القطع النقدية.
التعليمة 12: أكتب قيمتها.

= (1) (1) (1) (2) (5) (5) مس

التعليمة 13: استبدل هذه القطع بأقل ما يمكن من القطع النقدية.

= (1) (1) (1) (2) (5) (5)

جدول إسناد الأعداد

مقياس التميز عدد	مقياس العدد الأدنى					
	عدد 3	عدد 2	عدد 1	عدد 2	عدد 1	
عدد 1:	0	0	0	0	0	العدم التملك
2.5	1	1	1	1	1	تكون التملك الأدنى
عدد 2:	2	2	2	2	2	التملك الأدنى
7.5	3	3	3	3	3	التملك الأقصى