



طريق فرمودة كلم 3,5 - صفاقس
الهاتف : 97458346


الاختبار الثلاثي الثاني
للسنة الدراسية

الاسم واللقب :
المنطقة : **الدولة**


المادة : **رياضيات** العدد :

* السند 1 -

خُرِجَ رَفِيقٌ وَرَيْمٌ فِي التَّنَزُّهِ فِي فِرْعَةِ الْجَدَّةِ فَقَطَفَا
مَجْمُوعَةً مِنَ الْفَلَاحِ :



4



10

التعليق 1 -

* 1-1 = 4 كُتِبَ كَتَمًا مِنْ مَجْمُوعَةِ التَّفْصِيحِ
* 1-4 = 10 أَكْمِلْ رَسْمَ عُنَاصِرِ مَجْمُوعَةِ الْأَجْزَاءِ

وَضَعْ الْأَخْرَافَ مَاتِحَةً حَتَّى لَا يَكُنَ مِنْ غَيْرِ السَّلْطَةِ
* 1-3 = أَحْسَبْ عَدَدَ الْفَلَاحِ فِي غَيْرِ السَّلْطَةِ

..... = +

* 1-4 = أَرْتَبْ أَعْدَادَ الْعَمَلِ فِي تَرْتِيبَاتٍ صَاعِدِيَّةٍ
وَضَعْ عِلْمَ الْمَقَارِنَةِ فِي

.....

* السند 2 -

جَاءَ عُمَرُ لِيَلْعَبَ مَعَ أَبْنَاءِ مَتْنِهِ وَيَبْدَأُ كَيْسِيْنَ

www.Librairie-sfax.tn

من الخلق

مكتبة التاليف


طريق فرمودة كلم 3,5 - صفاقس

الهاتف : 97458346



طريق قرمدة كلم 3,5 صفائح
الهاتف : 97458346

* 1 - 9 = أَسْمُ مَجْمُوعَةٍ مِنَ الْخَلَوَى عَنَّا صَرَفًا أَقْل
مِنْ عَنَّا صِرَ الْمَجْمُوعَةِ الْأُولَى وَالْكَتَبُ كَثَمَهَا =



* 2 - 9 = أَحْسَبُ الْعَدَدَ الْجَمَلِيَّ فِي لِقَاطِعِ الْخَلَوَى =

0 = 0 + 0

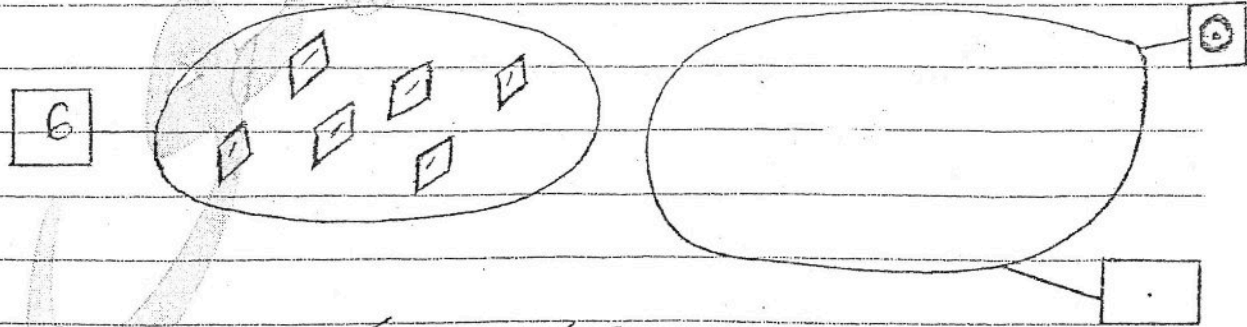
* 3 - 9 = أَكْتُبُ أَعْدَادَ الْعَلَيَّ فِي مَكَانِ النِّقَاطِ =

0 < 0 < 0

* السُّدُ 3 =

عَرَّجْتُ الْعَمَلِيَّةَ بَعْدَ رَوْحَتِهَا لِطَبَقَةِ الْأَخْلَوِيَّاتِ
النَّعَائِيَّةِ بِمَدَّةِ 3 =

* 3 - 1 = أَقْلُ مَجْمُوعَةٍ مِنَ الْكَلِمَاتِ عَنَّا صَرَفًا
أَكْثَرُ 3 مِنْ مَجْمُوعَةِ الْمَقْرُوضِ =



* 3 - 9 = أَحْسَبُ عَدَدَ الْخَلَوِيَّاتِ الَّتِي قَدَّمَتْهَا الْعَمَلَةُ لِعَمْرٍ =

0 = 0 + 0

* 3 - 3 = أَكْتُبُ أَعْدَادَ الْعَمَلِيَّةِ بِمَدَّةِ 3 عَلَى الشَّرْطِ التَّالِي =

0	12	8
---	----	---

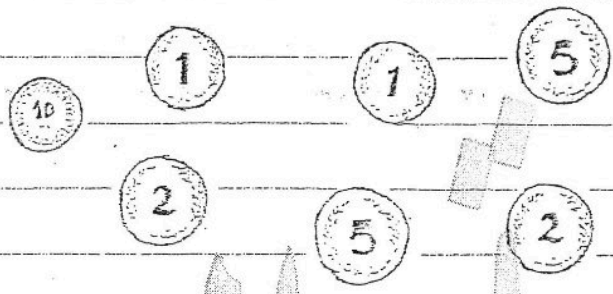
مكتبة الناقل
طريق قرمدة كلم 3,5 صفائح
الهاتف : 97458346



طريق فرمودة كلم 3,5 - صفاقس
الهاتف : 97458346

سَأَوَّلُ الْأَطْفَالَ الْعُطُورَ ثُمَّ تَوَجَّهْتُ إِلَى بَائِعِ اللَّعْبِ -
يَتَمَكَّنُ مِنْ شِرَاءِ
التعليق مد 4 =

1 - 4 = أُحَدِّدُ الْقَطْعَ الَّذِي تُمَثِّلُ 13 هَيْبَ



وَشَرَّتْ رِيحًا قَرْمَاةً تُشَكِّلُ كَطَيْدٍ 10 هَيْبِ

* 4 - 9 = أَكْمِلْ تَمَثِيلَ الْقَطْعِ الشَّافِي فِي الْأَسْوَاقِ
عَلَى ثَمَنِ الْخَلْوَكِ



كَمَا شَرَعِي عَمْرُ دَوَاهٍ مِنْ الْوَرَقِ الْمَلَوْنِ
بِ 19 هَيْبِ

* 4 - 3 = أَكْمِلْ 19 هَيْبِ بِأَقْلٍ عَدَدٍ مُمَكِّنٍ مِنَ الْقَطْعِ
التَّقْدِيرِيَّةِ

www.Librairie-sfax.tn

مكتبة التالق
طريق فرمودة كلم 3,5 - صفاقس
الهاتف : 97458346





طريق فرمودة كلم 3,5 - صفاقس
الهاتف : 97458346

بالتسديد 5 -

في طريق العود والى المنزل وجد رفيق
الكلع النقيديته التي اليه

3

5 5 5

التعليق 5 =

5 - 1 - أمسبقيه القلمح =

فقر شراء صورة دجاج في 17 مي =

5 - 5 - أشطط الأكلأ =

5

يمكنه شراء الصورة

لا يمكنه شراء الصورة

5

5 - 5 = أعال اجابتي =

* جدول اسناد الأعداد *

الحساب	مع التميز	معايير الحد الأدنى					مستوى التملك
		مع 3	مع 4	مع 5	مع 6	مع 7	
0	مع 5	0	0	0	0	0	انعدام التملك
1	مع 5	1	1	1	1	1	دون التملك الأدنى
2	مع 5	2	2	2	2	2	التملك الأدنى
3	مع 5	3	3	3	3	3	التملك المتوسط
4	مع 5	4	4	4	4	4	التملك الأقصى

www.Librairie-sfax.tn

مكتبة التملك الأدنى
طريق فرمودة كلم 3,5 - صفاقس
الهاتف : 97458346



www.najahni.tn