



مكتبة الناجني

طريق فرمودة كلم 3,5 - صفاقس

الهاتف : 97458346

الاسم واللقب:

إمتحان نهاية الثلاثي الثاني في  
مادة الرياضيات للسنوات الأولى

المدرسة:

الحساب الذهني

1- اكتب العدد الذي يأتي مباشرة بعد:

.....

1

2- اكتب العدد الذي يسبق مباشرة:

.....

1

3- أبحث عن العدد و اكتبه:

هو أكبر من 6 و أصغر من 8


.....

1

هو أصغر من 4 و أكبر من 2

.....

1

السند 1 قرّر مراد و سامي و سميّة الإحتفال بعيد ميلادهم في يوم  
واحد. فأحضر الآباء ثلاث مرطبات.

مع 2

4

8

7

التعليمة 1 أرتب أعمار الأطفال من الأكبر سنًا إلى الأصغر.

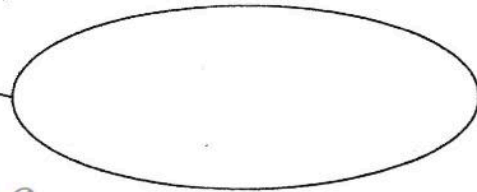
. &lt; . &lt; .

السند 2 أحضرت الأمهات كل لوازم الحفل

التعليمة 1 أمثل مجموعة التفاحات:

مع 1

9



www.Librairie-sfax.tn

مكتبة الناجني

طريق فرمودة كلم 3,5 - صفاقس

الهاتف : 97458346



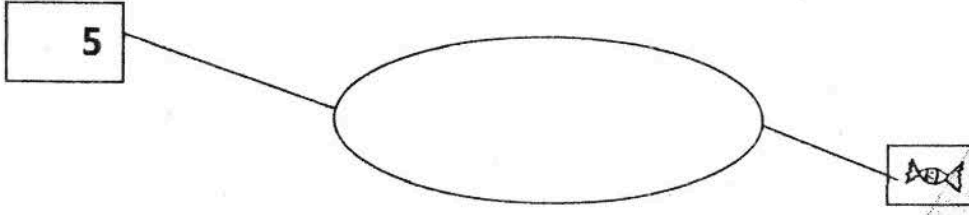


مكتبة التالف

طريق فرمده كلم 3.5 - سفاخن

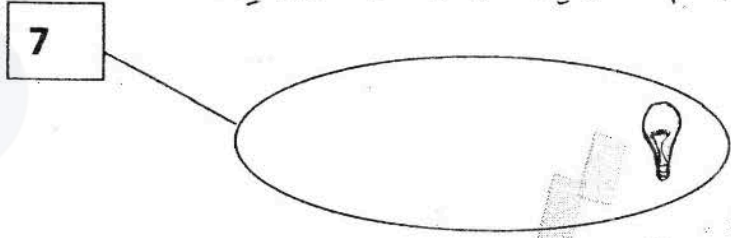
الهاتف : 97458346

التعليمة 2 أمثل مجموعة قطع الحلوى:



1 مع

التعليمة 3 أكمل رسم عناصر مجموعة الفوانيس.

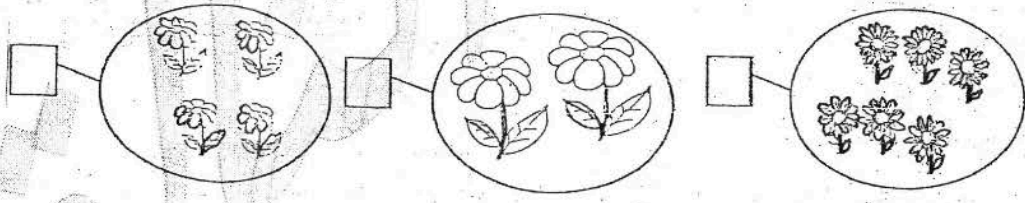


1 مع

التعليمة 4 أرّتب اللوازم ترتيبًا تصاعديًا.

2 مع

السند 3 قرّرت دلال أن تُهدي لصديقتها سميّة باقات جميلة من الأزهار:  
التعليمة 1 أكتب داخل الأفتة كم كل باقة.

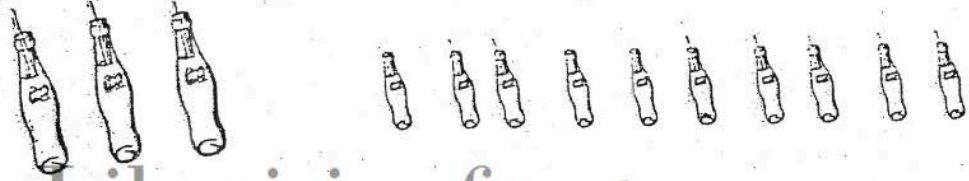


1 مع

التعليمة 2 أساعد دلال على ترتيب أعداد الأزهار من الأكبر إلى الأصغر.



السند 4 ساهم فراس بمجموعة من قوارير المشروبات الغازية.



5 مع

مكتبة التالف

طريق فرمده كلم 3.5 - سفاخن

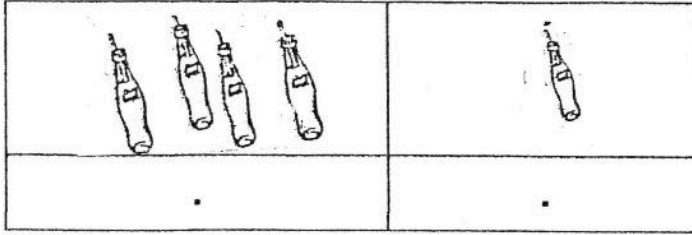
الهاتف : 97458346





## مكتبة التائق

طريق فرمده كلم 3,5 - صفاقس  
الهاتف : 97458346



التعليمية 1 أجمّع القوارير  
الصغيرة مُسترشداً بالجدول  
أواصل تعمير الجدول:

مع 2

السند 5 أما لطفي فقد

قرّر أن يهدي لأصدقائه أقلاماً و كتباً و بعد شرائها بقي له قطعاً نقدية.  
التعليمية 1 أحيط بخط مغلق القطع النقدية التي تمثل 9 مي.



مع 3

التعليمية 2 أكمل القطع النقدية الناقصة للحصول على 6 مي.



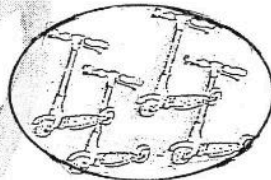
مع 3

التعليمية 3 أمثل 7 مي بقطعتين نقديتين.

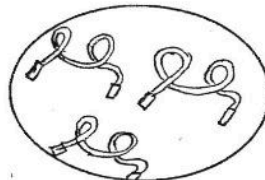


السند 6 بعد الاحتفال بعيد الميلاد خرج الأطفال إلى الحديقة. لعب  
الأولاد بالكرات و قفزت البنات بالحبال.  
التعليمية 6 أكون اتحاد مجموعتي اللعب التي لعب بها الأطفال و  
أربطه بالكتابة الجمعية الموافقة.

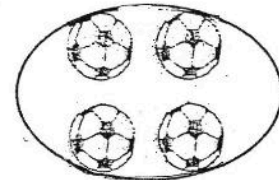
مع 3



3+4



8+6



2+4

مع 5






مكتبة الناقد  
طريق فرمودة كلم 3,5 - صفاقس  
الهاتف : 97458346

### جدول إستاد الأعداد

مستويات التماك	معياري الحد الأدنى			معياري التمييز	
	معد 1	معد 2	معد 3	معد 5	معد 2
انعدام التماك	0	0	0	عتبة 1	عتبة 2
دون التماك الأدنى	2	1	1	2	2
التماك الأدنى	4	2	2		
التماك الأقصى	6	3	3	4	

Handwritten Arabic text, likely a student's work or notes, covering the middle section of the page. It includes several lines of text and some faint diagrams or markings.



مكتبة الناقد  
طريق فرمودة كلم 3,5 - صفاقس  
الهاتف : 97458346

