


السند 1:

فِي يَوْمِ رَبِيعِيٍّ مُشْمِسٍ خَرَجْتُ سَلَمَى إِلَى الْحَدِيقَةِ فَقَطَفْتُ أَزْهَارًا حَمْرَاءَ وَأُخْرَى صَفْرَاءَ.

1. أَكُونُ مَجْمُوعَاتِ الْأَزْهَارِ حَسَبَ اللَّوْنِ وَأَكْتُبُ كَمَّ كُلِّ مَجْمُوعَةٍ:



2. أَحْسِبُ مَجْمُوعَ الْأَزْهَرَاتِ الَّتِي قَطَفْتُهَا سَلَمَى:

$$\dots = \dots + \dots$$

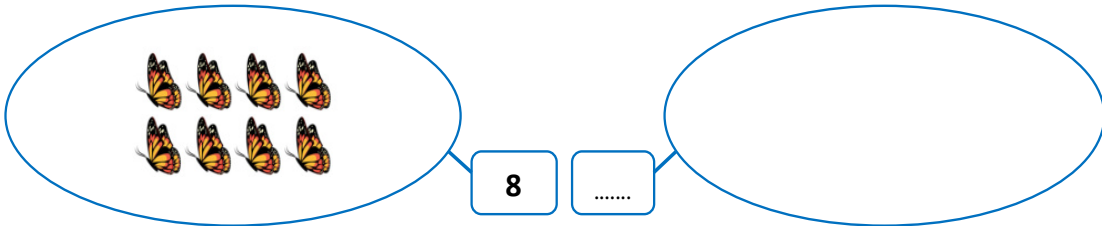
3. أُرَتِّبُ أَعْدَادَ الْعَمَلِيَّةِ مِنَ الْأَكْبَرِ إِلَى الْأَصْغَرِ:

$$\dots < \dots < \dots$$

السند 2:

إِصْطَادَتْ سَلَمَى 6 فَرَشَاتٍ بَيْضَاءَ وَ 8 فَرَشَاتٍ مُزْرَ كَشَّةٍ.

4. أَمَثِّلُ مَجْمُوعَةَ الْفَرَشَاتِ الْبَيْضَاءِ:



5. أَحْسِبْ مَجْمُوعَ الْفَرَاشَاتِ.

مع1ب

مع2ب

$$\dots = \dots + \dots$$

6. أَرْتُبْ أَعْدَادَ الْعَمَلِيَّةِ مِنَ الْأَصْغَرِ إِلَى الْأَكْبَرِ.

مع2أ

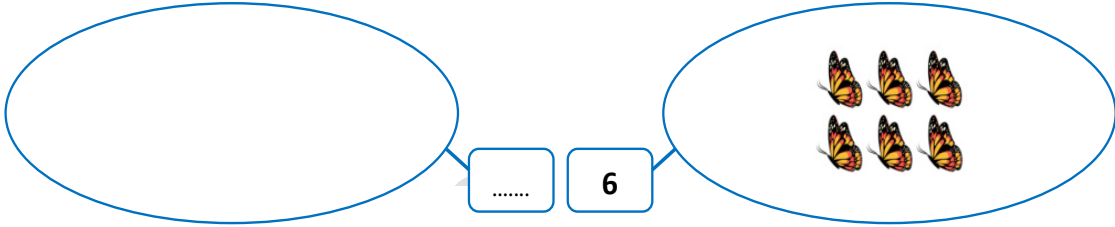
$$\dots > \dots > \dots$$

السند 3:

أَعْطَتْ سَلْمَى لِرَامِي 4 فَرَاشَاتٍ وَلِخَلِيلٍ 6 فَرَاشَاتٍ.

مع1أ

7. أَمَثِلْ مَجْمُوعَةَ فَرَاشَاتِ رَامِي:



8. أَحْسِبْ مَجْمُوعَ الْفَرَاشَاتِ الَّتِي أَعْطَتْهَا رَانِيَّةُ:

مع1ب

مع2ب

$$\dots = \dots + \dots$$

9. أَرْتُبْ أَعْدَادَ الْعَمَلِيَّةِ تَنَازُلِيًّا:

مع2أ

$$\dots < \dots < \dots$$

السند 4:

جَمَعَتْ سَلْمَى الْقِطْعَ النَّقْدِيَّةَ التَّالِيَةَ:



مع3

10. أَحِيطْ بِخَطِّ مُغْلَقٍ مَبْلَغَ 12 مِي:



11. أَمْتَلُ مَبْلَغَ 7 مِي بِاسْتِعْمَالِ الْقِطْعِ النَّقْدِيَّةِ:

7 مِي

12. أَكْمِلْ رَسْمَ الْقِطْعِ النَّاقِصَةِ لِأَحْصَلَ عَلَى مَبْلَغِ 10 مِي:

10 مِي



السند 5:

فِي الْمَسَاءِ عَادَتْ رَانِيَةُ إِلَى الْمَنْزِلِ وَرَسَمَتْ مَشْهَدًا عَلَى فَضْلِ الرَّبِيعِ بِهِ أَشْجَارٌ وَأَزْهَارٌ وَفَرَاشَاتٌ.

.....

13. أَصْنِفْ عَنَاصِرَ الْمَجْمُوعَةِ.

14. أَعْبُرْ عَنْ كَمِّ كُلِّ مَجْمُوعَةٍ بِكِتَابَةِ جَمْعِيَّةٍ:

15. أَحْسِبْ مَجْمُوعَ الْأَعْدَادِ وَأَكْتُبْهُ بِاللَّاقِئَةِ.

$$\dots = \dots + \dots + \dots$$

الحساب الذهني:

أَحْسَبُ:

..... = 2 + 8 •

..... = 11 + 5 •

..... = 8 + 6 •

..... = 4 + 5 •

..... = 3 + 3 •

..... = 6 + 8 •

أَكْتُبُ الْعَدَدَ الْمَحْضُورَ بَيْنَ:

17 ، ، 15

11 ، ، 9

12 ، ، 10

الْعَدَدُ الَّذِي يَأْتِي مُبَاشَرَةً بَعْدَ:

..... ، 13

..... ، 7

..... ، 10

جدول إسناد الأعداد

معيّار التميّز			معيّار الحد الأدنى					المعيّار
			معد 5	معد 3	معد 2ب	معد 2أ	معد 1ب	
0			0	0	0	0	0	انعدام التملك
1	1	1	1	1	1	1	0.5	دون التملك الأدنى
			2	2	2	2	1	التملك الأدنى
			3	3	3	2.5	1.5	التملك الأقصى

