


امتحان الثلاثي الأول
في مادة الرياضيات

الاسم :
اللقب :
السنة : الأولى

السند 1 :

خرج سامي في نزهة الى الحديقة العموميّة فالتقى بالعديد من أصدقائه .



مع 1

التعليمة 1 : أحيط بخطّ مغلق مجموعة الأطفال و أرسم رمزها .

التعليمة 2 : أكمل بـ "فوق" أو "تحت"

الفراشة الوردة .

القطة الشجرة .

مع 4

التعليمة 3 : أكتب "أمام" أو "وراء"

العصفور الشجرة .

مع 4

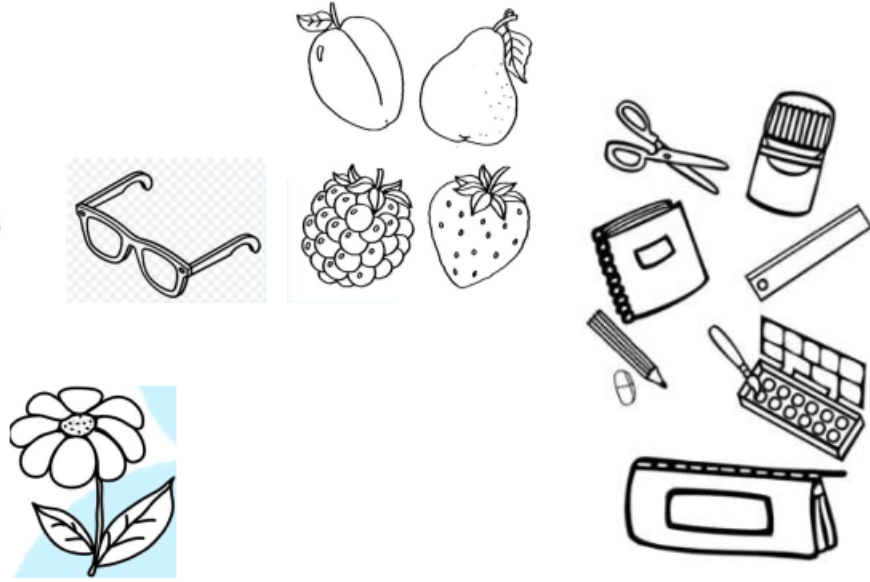
التعليمة 4 : أكمل بأكثر من - أقل من - على قدر.

التفاحات مجموعة الأزهار.

الأشجار مجموعة الأطفال.

مع 1

السند 2 : اقترب سامي من أصدقائه فوجدهم ينجزون دروسهم في الحديقة العمومية .



مع
ب

مع
ب

التعليلة 1 : أحيط مجموعة الأدوات المدرسية

التعليلة 2 : أكوّن مجموعة الكتب ضمن مجموعة الأدوات و أرمز إليها.

التعليلة 3 : أشطب الخطأ :

الزهرة تنتمي لا تنتمي إلى مجموعة الأدوات المدرسية .
النظارة تنتمي لا تنتمي إلى مجموعة الأدوات المدرسية .

مع
ب

التعليلة 4 : ألوّن اليد اليسرى لسامي و رجله اليمنى.

مع4ب

التعليلة 5 : أكمل ب : على يمين - على يسار

الزهرة سامي .

السند 3 : لعب سامي مع أصدقائه

مع
عتبة
1


التعليلة : أصنّف أصدقاء سامي حسب خاصية أختارها :



السند 4 : زرع الأطفال بعض النباتات في الحديقة العمومية :

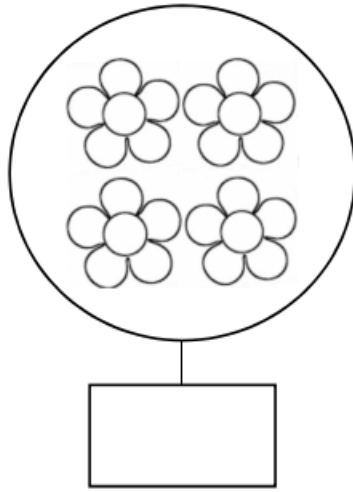
التعليلة 1 : أتملّ الجدول و أرسّم النباتات التي زرعها مراد.

مع
عتبة
2



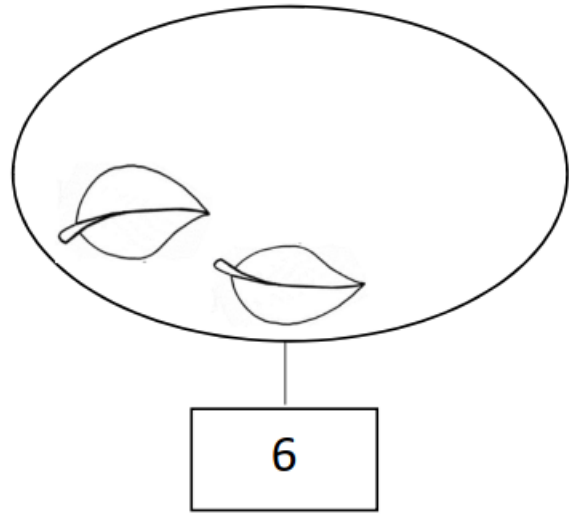
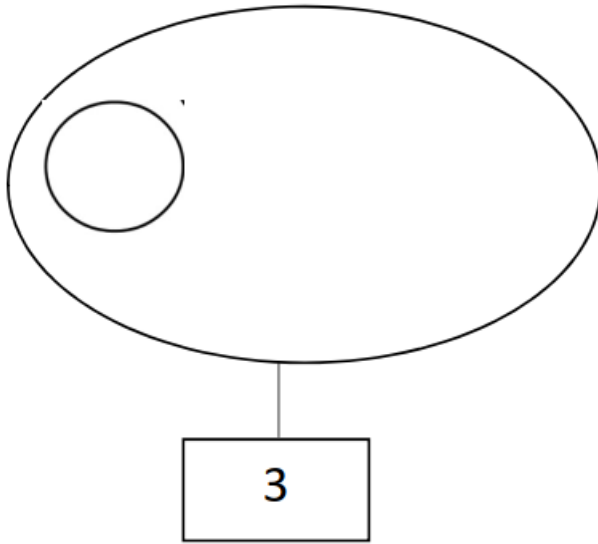
لا ينتمي	ينتمي	العناصر
	×	
	×	
×		
×		

التعليمة 2 : أكتب عدد العناصر :



التعليمة 3 : أكمل برسم العناصر الناقصة :

مع 2



جدول إسناد الأعداد

معيار التميّز	معايير الحد الأدنى							
	مع 4 ب	مع 4 أ	مع 2	مع 1 ب				مع 1 أ
0	0	0	0	0			0	انعدام التملك
2.5	1	0.5	1	3	2	1	0.5	دون التملك الأدنى
2.5	2	1	2	4			1	التملك الأدنى
	3	1.5	3	6	5	1.5		التملك الأقصى