

الثلاثي
الاول



1 أساسي

امتحانات

دروس علمية للمراجعة
استعداد لامتحان

رياضيات
إيقاظ علمي



السند عدد 1:

إعداد مائدة الطعام أحضرت رباب الصُّحُونِ وَ أَحْضَرَ حَلِيل
لملاعق يَتَمَّا جلبت الأم الحَبِز.

التعليمة 1-1


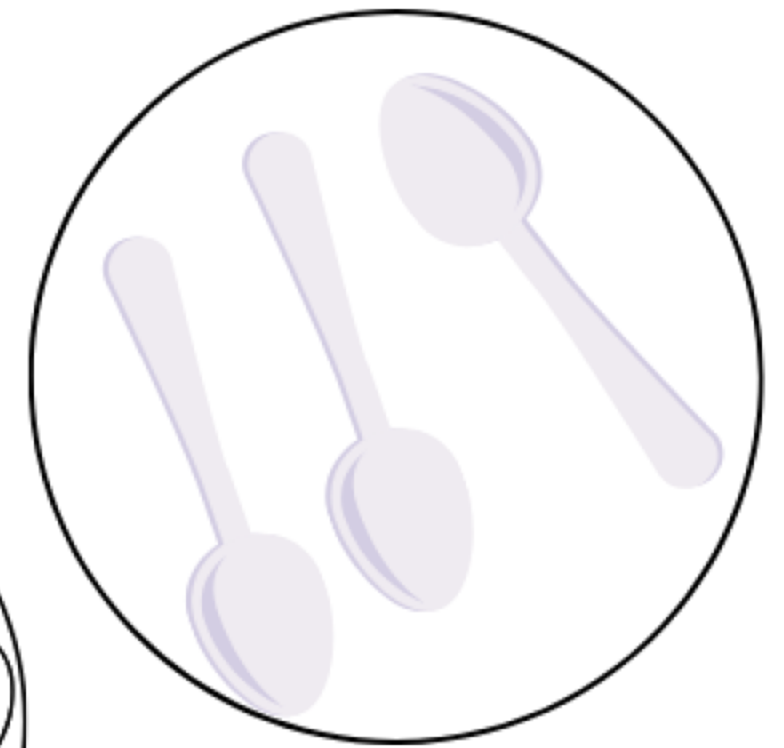

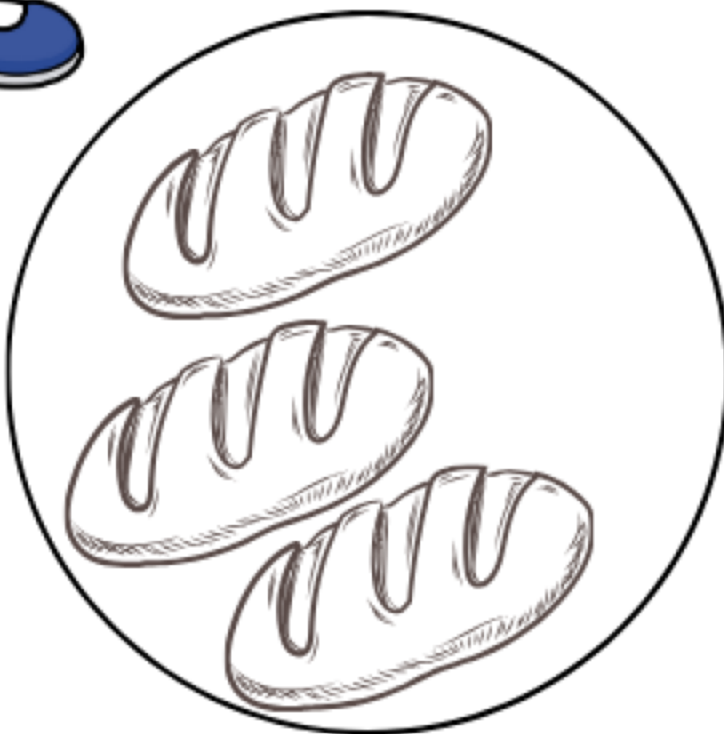

أرْبُطُ رَبَابَ بِمَا أَحْضَرْتُهُ.

التعليمة 2-1

أضع العلامة (x) تَحْتَ مَا أَحْضَرَهُ حَلِيلٌ.

التعليمة 3-1

ألَوْنُ مَا أَحْضَرْتُهُ الْأُمُّ.



2024-10-25

رياضيات

السنة الأولى-

هشام احمد

تقييمات في نهاية
الثلاثي الاول



هيا نتعلم

السند عدد 2

شَاهَدْتُ رَبَّابُ عَلَى الْمَائِدَةِ أَشْيَاءَ عَدِيدَةً.

التعليمة 1-2


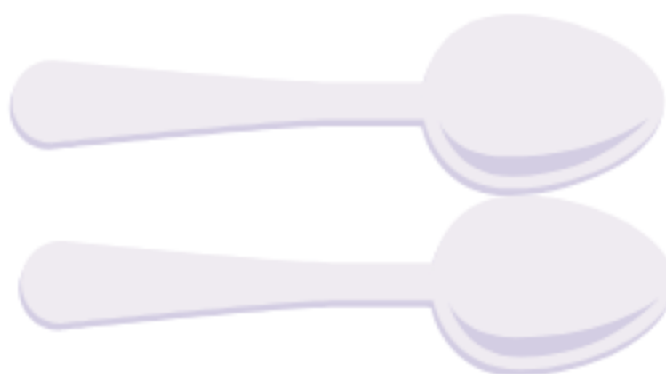



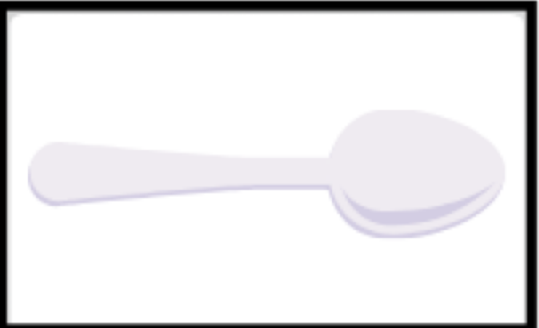
أَحِيطُ بِحَظِّ مُغَلَقٍ عَنَّا صِرَ مَجْمُوعَةِ الْمَأْكُولَاتِ.

التعليمة 2-2

أَرَبُطُ مَجْمُوعَةَ الْمَأْكُولَاتِ بِاللَّافِتَةِ

التعليمة 3-2

الْوَنُ الْمِلْعَقَةُ الْمَوْجُودَةَ فَوْقَ الْمِنْدِيلِ.



هشام احمد

تقييمات في نهاية
الثلاثي الاول

هيا نتعلم



السند عدد 3

خَرَجْتُ رَبَابُ إِلَى الْحَدِيقَةِ وَ بَعْدَ مُدَّةٍ قَصِيرَةٍ عَادَتْ وَ يَدِيهَا
زُهُورٌ مُتَّوَعَةٌ لِتُزَيِّنَ بِهَا الْمَائِدَةَ.

التَّعْلِيمَةُ 1-3

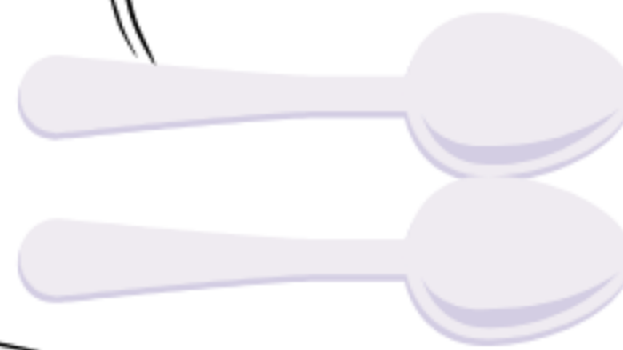

أَحِيطُ بِحَظِّ مُعَلِّقٍ عَنَّا صِرَ مَجْمُوعَةَ الزُّهُورِ.

التَّعْلِيمَةُ 2-3

أَرْبُطُ الْمَجْمُوعَةَ بِاللَّافِتَةِ الْمُنَاسِبَةِ لَهَا.

التعليمية 3-3

أضع العلامة (X) تحت الطعام الذي يوجد على اليسار.



2024-10-25

رياضيات

السنة الأولى

هشام احمد

تقييمات في نهاية
الثلاثي الاول



هيا نتعلم

نَجَّحْنِي

السند عدد 4

نَظَرْتُ رَبَّابٌ إِلَى السَّمَكِ الشَّهِي فَوْقَ الْمَائِدَةِ.

التعليمة 1-4



أَحِيطُ بِحَظِّ مُغْلَقِ مَجْمُوعَةِ الْأَسْمَاكِ.

التعليمة 2-4

أَرْبَطُ الْمَجْمُوعَةَ بِاللَّافِتَةِ الْمُنَاسِبَةِ لَهَا.

التعليمة 3-4

الْوُنُ الْأَشْيَاءِ الْمَوْجُودَةَ عَلَى يَمِينِي.



السند عدد 5

تَأَمَّلْتُ رَبَّابُ الْمَنَادِيلِ الْمَوْجُودَةَ عَلَى الْمَائِدَةِ فَوَجَدْتُهَا تَشْتَمِلُ
عَلَى صُورٍ لِحَيَوَانَاتٍ مُخْتَلِفَةٍ.





هشام احمد

تقييمات في نهاية
نهاية الثلاثي الاول

هيا نتعلم

التعليمة 1-5

أصنف الحيوانات حسب خاصية أختارها.



السند عدد 6

شكرت الأم ابنتها على مساعدتهما لها في تحضير المائدة و
أهدتهما مجموعة من اللعب.

التعليمة 1-6

أصنف اللعب حسب خاصية أختارها.



5

جدول إسناد الأعداد

معيار التميز		معايير الحد الأدنى				مستويات التملك
مع 5		مع 4	مع 1 ج	مع 1 ب	مع 1 أ	
عتبة 2	عتبة 1	0	0	0	0	انعدام التملك (---)
		1	1.5	1.5	1	دون التملك الأدنى (-)
		2	3	3	2	التمك الأدنى (++-)
2.5	2.5	3	4.5	4.5	3	التمك الأقصى (+++)

2024-10-25

رياضيات

السنة الأولى

هشام أحمد

تقييمات في
نهاية الثلاثي الأول




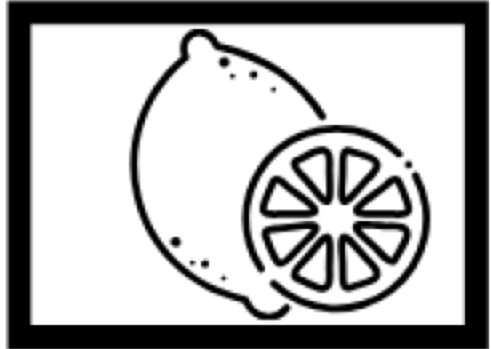
هيا نتعلم

السند عدد 1:

تَوَجَّهَ أَحْمَدُ وَ سَلْمَى وَ فَاطِمَةُ إِلَى حَقْلِ جَدِّهِمْ فَقَطَفَ أَحْمَدُ
بَرْتُقَالَةً وَ لَيْمُونَةً وَ زَهْرَةً.

التَّعْلِيمَةُ 1-1:

أَضِعْ الْعَلَامَةَ (X) تَحْتَ مَا قَطَفَهُ أَحْمَدُ.



السند عدد 2

رَأَتْ سَلْمَى فَرَّاشَةً فَوْقَ زَهْرَةٍ.

التَّعْلِيمَةُ 1-2

الْوَنُّ الْفَرَّاشَةُ الْمَوْجُودَةُ فَوْقَ الزَّهْرَةِ.



7



2024-10-25

رياضيات

السنة الاولى

هشام احمد

تقييمات في
نهاية الثلاثي الاول



هيا نتعلم

التعليمة 2-2

أحيطُ بخطِ مُعلَقٍ عناصرِ مجموعةِ الأشجارِ.

التعليمة 2-3:

أربطُ مجموعةَ الأشجارِ بِاللَّفْتَةِ الْمُنَاسِبَةِ.



السند عدد 3

أَمَّا فَاطِمَةُ فَأَرَادَتْ أَنْ تُكَوِّنَ بَاقَةَ أَزْهَارِ.

التعليمة 1-3:

أحيطُ بِخَطِّ مُعلَقٍ مجموعةَ الأزهارِ.

التعليمة 2-3

أرسمُ اللَّفْتَةَ الْمُنَاسِبَةَ لِمجموعةِ الأزهارِ.



8



هشام احمد

تقييمات في
نهاية الثلاثي الاول

هيا نتعلم

السند عدد 4:

أرادَ أَحْمَدُ أن يصطادَ العُصْفُورَ الذي تحت الشجرة.

التعليمة 1-4:

الونَ العُصْفُورِ الذي تحت الشجرة.

التعليمة 2-4:


أحيطُ بِحَظٍ مُخْلِيقِ مَجْمُوعَةِ العَصَافِيرِ الَّتِي تَطِيرُ.

التعليمة 3-4:

أربطُ مَجْمُوعَةَ العَصَافِيرِ بِاللَافِتَةِ المُنَاسِبَةِ.

التعليمة 4-4:

أرسمُ زَهْرَةَ وِراءَ أَحْمَدَ.






السند عدد 5

في رُكْنٍ مِنْ أَرْكَانِ الْحَقْلِ يَعْتَنِي الْجَدُّ بِتَرْبِيَةِ الْحَيَوَانَاتِ.

التعليمة 1-5

أَصِفْ الْحَيَوَانَاتِ حَسَبَ خَاصِّيَّةٍ اخْتَارَهَا.



التعليمة 2-5

أَضَعْ عِلَامَةَ (x) فِي الْجَدُّوْلِ الْمُنَاسِبِ

أَكْثَرُ مِنْ

أَقَلُّ مِنْ

عَلَى قَدْرِ

الْحَيَوَانَاتِ

الطُّيُورُ

2024-10-25

رياضيات

السنة الاولى

هشام احمد

تقييمات في
نهاية الثلاثي الاول

هيا نتعلم

نجحني

جدول إسناد الأعداد


معايير التميز		معايير الحد الأدنى				مستويات التملك
معد 5		معد 4	معد 1 ج	معد ب	معد أ	
عتبة 2	عتبة 1	0	0	0	0	انعدام التملك (---)
		1.5	1.5	1	1	دون التملك الأدنى (+--)
		3	3	2	2	التمك الأدنى (++-)
2	3	4.5	4.5	3	3	التمك الأقصى (+++)

السند عدد 1:

رَنَّ جَرَسُ الْمُبَيِّهِ فَاسْتَيْقَظَ حَلِيلٌ مِنْ نَوْمِهِ.

التعليمة 1-1:

الْوَنُ الْحَاسَّةَ الَّتِي مَكَّنَتْ حَلِيلًا مِنَ النَّهْوِضِ.



السند عدد 2

وَتَبِعْتُهُ أُخْتُهُ رَبَابٌ. وَتَوَجَّهَ الْإِثْنَانِ إِلَى الْمِغْسَلِ.

التعليمة 1-2:

أَلْوَنٌ مَا يُوجَدُ فَوْقَ رَفِّ الْخِرَانَةِ.

التعليمة 2-2:

أُضْلِحُ الْخَطَأَ:

الْمِغْسَلُ وَرَاءَ حَلِيلٍ.



2024/10/26

ايقاظ علمي

السنة الاولى

هشام احمد

تقييمات في نهاية
الثلاثي الاول

هيا نتعلم

نَجَّحْنِي

السند عدد 3

وَبَعْدَ ذَلِكَ تَوَجَّهًا إِلَى الْمَائِدَةِ لِتَنَاوُلِ فُطُورِ الصَّبَاحِ.



التعليمة 1-3

رَبَابٌ عَلَى يَمِينِ حَلِيلٍ.

التَّعْلِيمَةُ 2-3

أُضِلِحُ الْخَطَأَ بِوَضْعِ عِلَامَةٍ فَوْقَ الشَّخْصِ الَّذِي يَجْلِسُ عَلَى
يَمِينِ حَلِيلٍ

السند عدد 4

تَدَوَّقْتُ رَبَابَ الْحَلِيبِ فَإِذَا هُوَ سَاخِنٌ جِدًّا. أَمَّا حَلِيلٌ فَأَحَدٌ يَلْعَبُ
بِالسَّكِينِ



التَّعْلِيمَةُ 1-4:

أَلَوُّنُ الْعُضْوَ الَّذِي مَكَّنَ رَبَابَ مِنْ تَدَوُّقِ الْحَلِيبِ.

هشام احمد

تقييمات في نهاية
الثلاثي الأول

هيا نتعلم



التعليمة 2-4

أرْبُطُ بِالتَّغْلِيلِ الْمُنَاسِبِ لِأَقْدَمِ لِحْلِيلِ وَرَبَابِ بَعْضِ النَّصَائِحِ.

* حَتَّى لَا أَضُرَّ بِحَاسَّةِ السَّمْعِ.

* لَا أَتَأَوَّلُ طَعَامًا سَاحِنًا.*


* حَتَّى لَا أَضُرَّ بِحَاسَّةِ اللَّمْسِ.

* حَتَّى لَا أَضُرَّ بِحَاسَّةِ الدَّوْقِ.

* لَا أَلْعَبُ بِالسَّكِّينِ*

السند عدد 5

فَجَاءَ دَخَلْتُ مِيمي العُرْفَةَ وَصَعِدْتُ فَوْقَ الْكُرْسِيِّ.



التعليمة 1-5

أرْبُطُ بِالتَّغْلِيلِ الْمُنَاسِبِ:

. أَمَامَ الْكُرْسِيِّ.

. تَحْتَ الْكُرْسِيِّ.

* مَوْقِعَ مِيمي حَاطِي لِأَنَّهَا .

أَصْلِحُ الْخَطَأَ بِرَسْمِ مِيمي فِي الْمَكَانِ الْمُنَاسِبِ.

2024/10/26

ايقاظ علمي

السنة الاولى

هشام احمد

تقييمات في نهاية
الثلاثي الأول

هيا نتعلم



السند عدد 6

بَعْدَ تَنَاوُلِ فَطُورِ الصَّبَاحِ لَيْسَ كُلُّ طِفْلِ مِيدَعَتِهِ وَاسْتَعَدَّ لِلذَّهَابِ
إِلَى الْمَدْرَسَةِ



رَبَاب



خَلِيل



التعليمة 1-6

أَتَمِّمُ بِـ " أَطْوَلُ " أَوْ " أَقْصَرُ " .

خَلِيلٌ مِنْ رَبَابٍ .

أَشْطَبُ اللَّافِتَةِ الْخَاطِئَةِ .

إِلَى الشَّجَرَةِ مِنْ رَبَابٍ

أَقْرَبُ

أَبْعَدُ

خَلِيلٌ





جدول إسناد الأعداد

مستويات التميز		معايير الحد الأدنى				مستويات التملك
معد 3		معد 2	معداب	معداً	التملك	
متبة 3	متبة 2	متبة 1	0	0	0	انعدام التملك (---)
			2	1.5	1.5	دون التملك (+---)
			4	3	3	التملك الأدنى (+++)
2	1.5	1.5	6	4.5	4.5	التملك الأقصى (++++)

السند عدد 1:

يَوْمُ الْأَحَدِ قَامَتْ رَبَابٌ مِنَ النَّوْمِ صَبَاحًا وَ فَتَحَتْ نَافِذَةَ
عُرْفَتِهَا الْمُطَلَّةِ عَلَى الْحَدِيقَةِ فَشَاهَدَتْ الْعَصَافِيرَ تَطِيرُ
وَتُرَقِّقُ وَاشْتَمَّتْ
رَائِحَةَ الْأَزْهَارِ الْفَوَاحِةِ.

التَّعْلِيمَةُ 1-1:

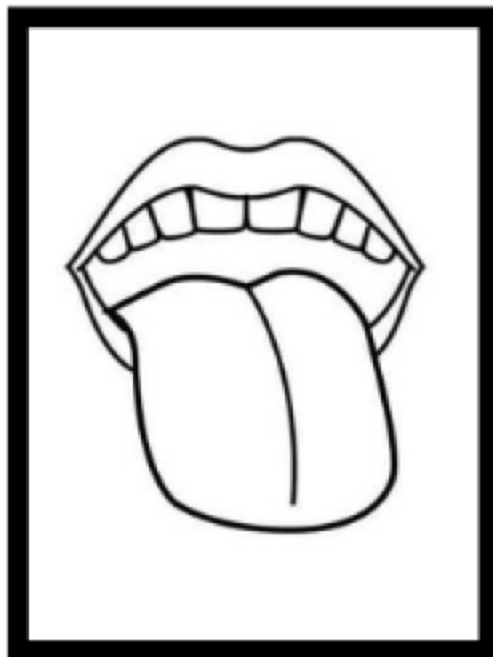
أَلَوْنُ حَاسَّةِ الْبَصَرِ.

التَّعْلِيمَةُ 2-1

أَحِيطُ حَاسَّةِ السَّمْعِ بِحَطِّ مُغْلَقٍ.

التَّعْلِيمَةُ 3-1

أَضَعُ الْعَلَامَةَ (X) تَحْتَ حَاسَّةِ الشَّمِّ.











السند عدد 4

فَجَاءَ حَطُّ عَصْفُورٍ فَوْقَ شَجَرَةِ النَّفَّاحِ.



التعليمة 1-4:

أرْبُطُ بِالتَّغْلِيلِ الْمُنَاسِبِ.

* تَحْتَ الشَّجَرَةِ

مَوْعِ الْعَصْفُورِ فِي الصُّورَةِ حَاطِيٍّ لِأَنَّهُ.

* فِي أَعْلَى الشَّجَرَةِ

التَّغْلِيمَةُ 2-4

أَصْلِحُ الْخَطَّ بِرَسْمِ الْعَصْفُورِ فِي مَكَانِهِ الْمُنَاسِبِ.

السند عدد 5

أَحَدَ حَلِيٍّ يُقَلِّعُ الْأَعْشَابَ الطَّفِيلِيَّةَ فَجَاءَ وَحَزَنُهُ شَوْكَةً فَسَالَ الدَّمُ مِنْ
إِصْبَعِهِ

التعليمة 1-5

أَرْبَطُ بِالتَّغْلِيلِ الْمُنَاسِبِ لِأَقْدَمِ بَعْضِ النَّصَائِحِ لِخَلِيلٍ يُحَافِظُ
بِهَا عَلَى حَوَاسِهِ

لَأَنِّي سَأَصْرُ بِحَاسَةِ الشَّمِّ.

لَا أَقْلَعُ الْأَغْشَابَ بِأَصَابِعِي*

لَأَنِّي سَأَصْرُ بِحَاسَةِ اللَّمْسِ.

