

تمارين الدرس 3: دعائم القوة الاقتصادية للولايات المتحدة الأمريكية

أمثلة من الأسئلة الموضوعية

المثال الأول:

أكمل تعريف الميغالوبوليس :
هي تجمع في الولايات المتحدة الأمريكية تمتد من إلى على مسافة
..... كم وتضم حوالي مليون نسمة .

13

المثال الثاني:

اربط المدينة الأمريكية بعدد سكانها سنة 2010

● لوس أنجلس	● 21.2 مليون نسمة
● نيو يورك	● 7.6 مليون نسمة
● شيكاغو	● 16.4 مليون نسمة
● واشنطن	● 9.2 مليون نسمة

12

المثال الثالث:

اذكر مظهرين لخدمة الدولة الأمريكية مصلحة مؤسساتها:

12

المثال الرابع:

اربط المكون العرقي بنسبته من مجموع سكان الولايات المتحدة الأمريكية سنة 2010 :

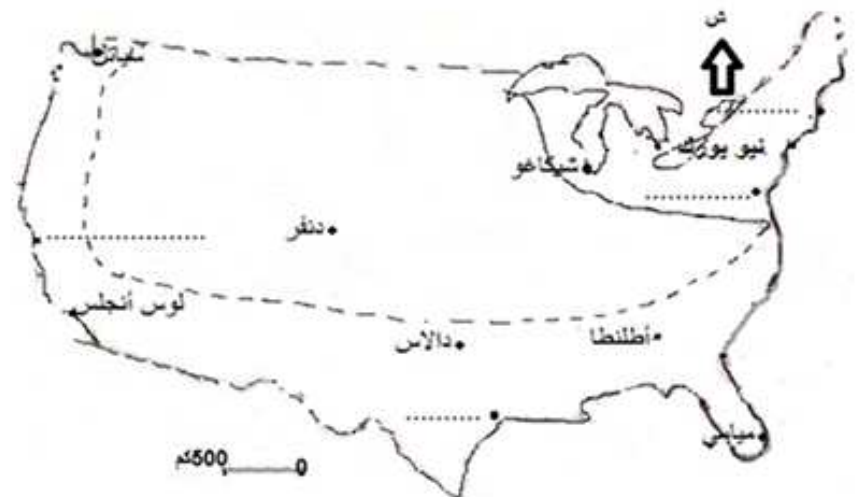
● الزنوج (السود)	● 72 %
● الآسيويون	● 12.5 %
● البيض	● 9.5 %
● العرب واللاتينيون	● 5 %

12

المثال الخامس:

سجل أسماء هذه المدن الأمريكية في المكان المناسب: (هوستن - بوسطن - واشنطن - سان فرانسيسكو)

12



المثال السادس:



المثال السابع:



المثال الثامن:

12

اربط المناخ الأمريكي بمنطقة تواجهه:

- شبه المداري الرطب
- القاري الرطب
- المتوسطي
- المحيطي
- الجنوب الغربي
- الجنوب الشرقي
- الشمال الشرقي
- الشمال الغربي

أمثلة من الأسئلة التأليفية

المثال الأول:



استغلال وثيقة (12 نقطة):
أجب على الأسئلة بالاعتماد على الوثيقة ومستعينا بالدرس:

العنوان: التحضر وتيارات الهجرة الداخلية الأمريكية



1. قدم نوع الوثيقة
وموضوعها : /2

2. سجل أسماء هذه المدن الأمريكية في المكان المناسب: (دالاس- نيويورك - شيكاغو - سان فرانسيسكو) وأكمل مفتاح الخريطة بما يناسب. /3.5

3. ميز بلونين مختلفين بين منطقة انطلاق تيارات الهجرة الداخلية ومنطقة توجيهاها ثم ارسم تيارات الهجرة الداخلية بين المنطقتين. /3.5

4. كيف تفسر هذه الحركة المجالية؟ /3

المثال الثاني:

استغلال وثيقة (12 نقطة):

العنوان: تطور قيمة الاستثمارات الأجنبية الواردة على الولايات المتحدة الأمريكية بين 1990 و 2012 (بالمليار \$)

السنة	1990	1995	2000	2002	2004	2012
قيمة الاستثمار	48.5	57.7	321.2	80.8	106.8	257.4

المصادر: منظمة التعاون والتنمية الاقتصادية 2005 أفاق الاستثمار ملامح العالم الاقتصادية 2013 / 2014

أجب على الأسئلة بالاعتماد على الوثيقة ومستعينا بالدرس:

1. قدم الوثيقة (نوعها وموضوعها

ومصدرها) : /2

2. حولها إلى رسم بياني على شكل منحنى


(أكمل 4 نقاط وارسم المنحنى). /4

3. حلل الحركة التطورية للاستثمارات

الأجنبية المباشرة في الولايات المتحدة الأمريكية بين 1990 و 2012 . /4

4. ماذا تستنتج بخصوص العوامل المؤثرة

في هذه الحركة التطورية /2



المثال الثالث:



تحرير فقرة (11 نقطة):
الموضوع: لخص من خلال فقرة الدعائم التنظيمية للقوة الاقتصادية الأمريكية.

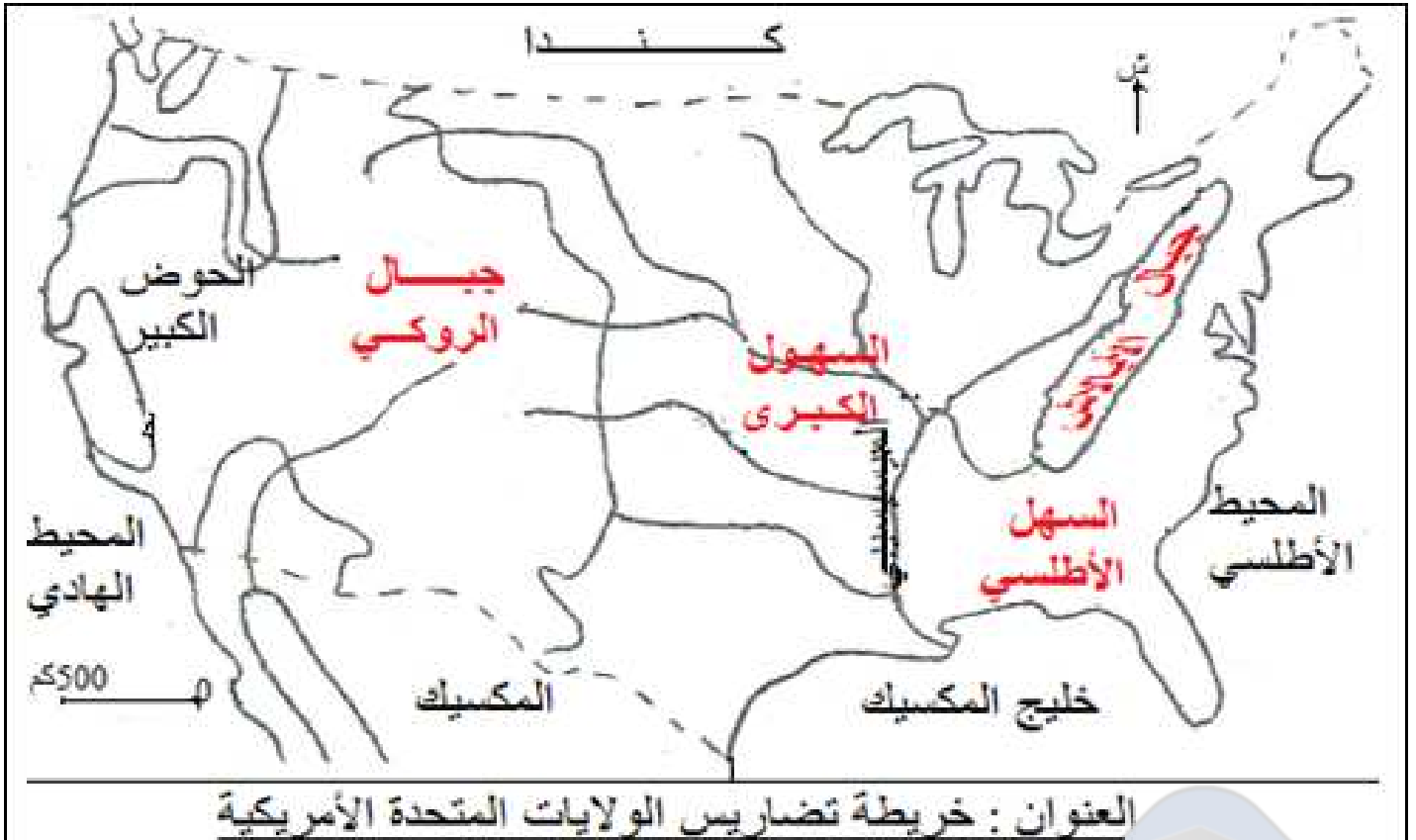
إصلاح تمارين الدرس 3: دعائم القوة الاقتصادية للولايات المتحدة الأمريكية

إصلاح الأسئلة الموضوعية

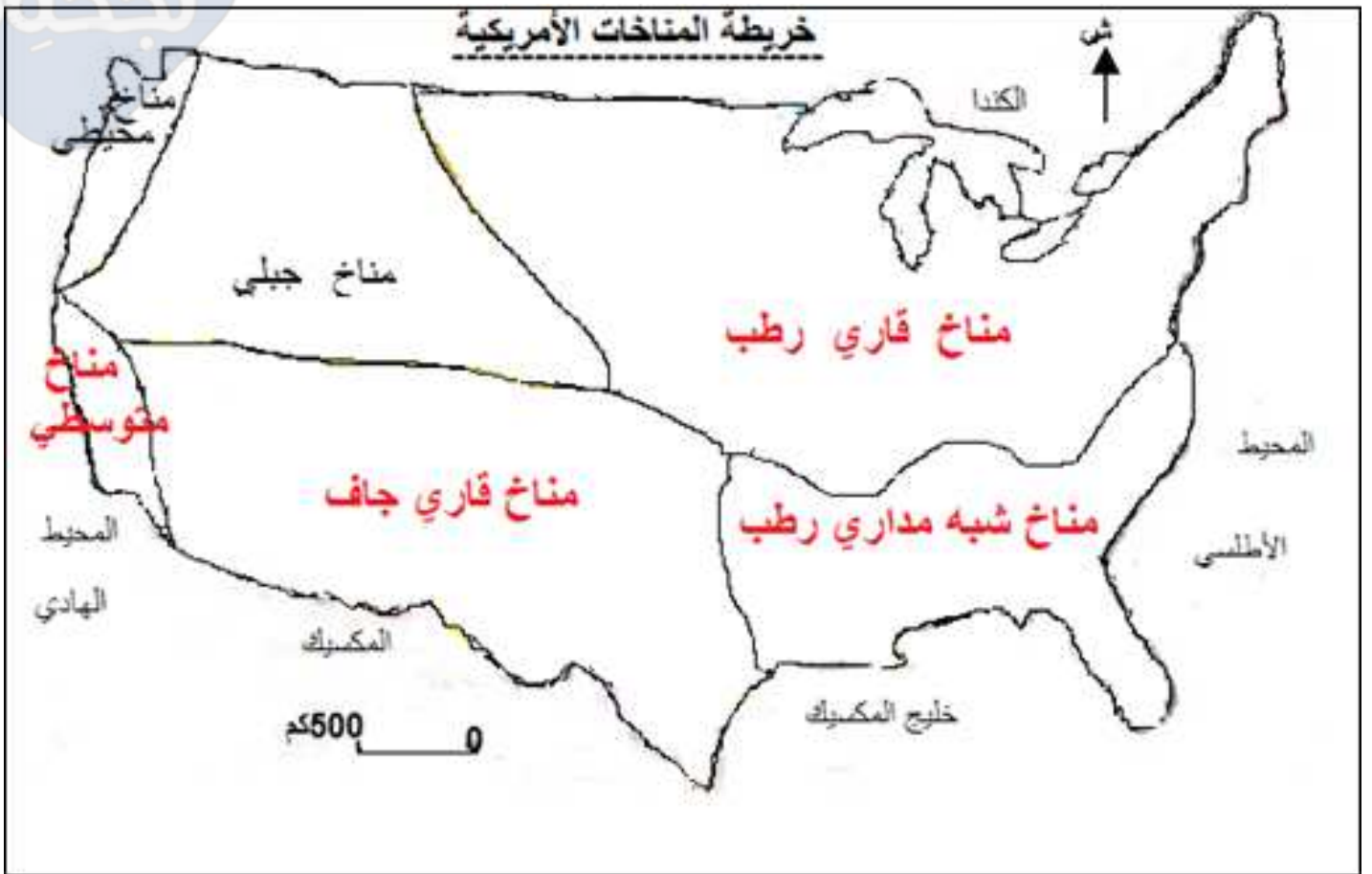
إصلاح المثال الثاني

شيكاجو	●	21.2 مليون نسمة	●
لوس أنجلوس	●	16.4 مليون نسمة	●
نيو يورك	●	9.2 مليون نسمة	●
واشنطن	●	7.2 مليون نسمة	●

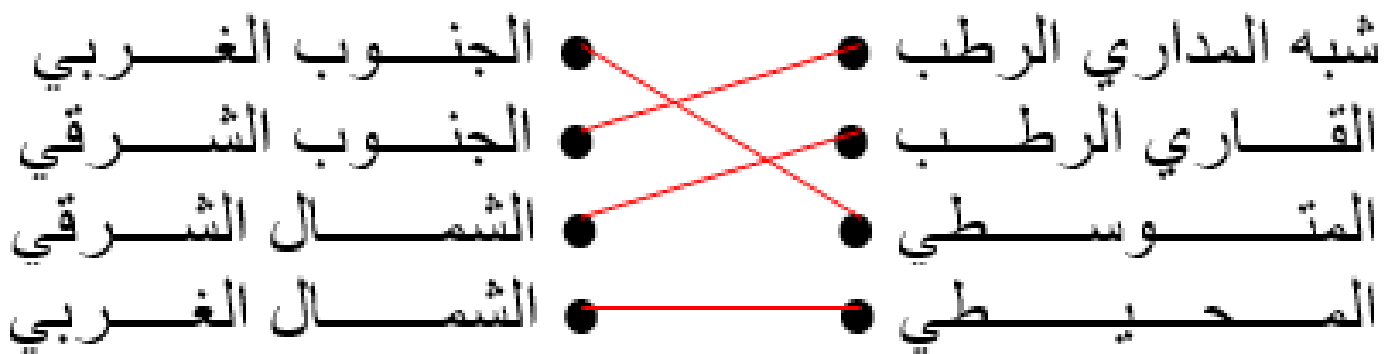
إصلاح المثال السادس



إصلاح المثال السابع



إصلاح المثال الثامن:



إصلاح الأسئلة التأليفية

إصلاح المثال الأول:

1. التمرين الأول : /12
هذه الوثيقة على شكل خريطة تتعلق بموضوعها بالتحضر وتيارات الهجرة الداخلية الأمريكية.



/3.5

2. التمرين الثاني: (انظر الخريطة)

/3.5

3. التمرين الثالث: (انظر الخريطة)

/13

4. التمرين الرابع:

شهدت مدن الشمال الشرقي الأمريكي وخاصة الميغالوبوليس في نهاية القرن العشرين تباطؤا كبيرا في نسق نموها باستثناء مدينة واشنطن العاصمة الفدرالية وتعتبر هذه الوضعية عن فتور نموها الاقتصادي بحكم اكتمال هذا النمو إلى درجة عجز هذه المنطقة عن استقطاب أنشطة اقتصادية كبرى فأصبحت منفرة للمستثمرين والشباب الباحثين عن مواطن شغل مناسبة وأصبحت منطقة حزام الشمس الممتدة في الجنوب والغرب وجهتهم الرئيسية لما يتوفر فيها من عوامل طبيعية كالمناخ الملائم والثروات الباطنية المتنوعة فزادت هذه الهجرة الداخلية في تنشيط هذه المناطق الحديثة الاستثمار بتوفير رؤوس الأموال واليد العاملة المختصة.

نَجَّحْنِي